



## НАЦИОНАЛНО ФИНАЛНО СЪСТЕЗАНИЕ

III клас

\_\_\_\_\_  
*/училище/*

\_\_\_\_\_  
*/име, презиме, фамилия/*

**1. В кое изречение НЕ е допусната грешка?**

- а) По-високите клони кацат птички.
- б) Най голямото животно е китът.
- в) Петьо е по-бърз от Владко.

**2. В кой ред откриваш три форми на глагола ПЕЯ?**

- а) пеем, пеене, песнопоец;
- б) песен, пее, песенен;
- в) пея, пееш, пее.



**3. Образувай нови думи с дадените представки и думи:**

раз                      говор                      \_\_\_\_\_

под                      скочи                      \_\_\_\_\_


от                      чета                      \_\_\_\_\_

**4. Прочети внимателно текста и напиши за кой български град се отнася той.**

*Създаден е в древността. Разположен е в полите на Витоша планина. Днес има повече от 1 милион жители. Това е град \_\_\_\_\_.*

5. Това е първата страница на:

- а) „История славянобългарска”;
- б) „Рибен буквар”;
- в) „За буквите”.




6. Кой текст НЕ е художествен?

- а) Борът е иглолистно дърво. Достига до 30 метра височина. Той е вечнозелен. Издържа на ниски зимни температури.
- б) В нашето дворче имаме борче, малко, бодливо като таралеж. И със игличките боцка тревичките, казва им: Бягайте, беж!
- в) Когато мъничкото борче излезе над рохкавата пръст и погледна ясно то светло небе, то разпери радостно нежните си листенца.  
- Ай! Колко е хубаво! - рече то.

7. Кое е най-голямото число, което може да бъде поставено в квадратчето така, че да е вярно неравенството?

$$4 - (3 - 1) < 7 - (\square + 2)$$

- а) 3;
- б) 1;
- в) 2.



8. Иво получил 978 лв. Половината от парите дал за храна, а третинката от останалите платил за екскурзия. Останалите спестил. Колко лева спестил Иво?

---

---

Отговор: \_\_\_\_\_

9. Попълни така, че да е вярно.

14 денонощия = \_\_\_\_\_ седмици

2 денонощия = \_\_\_\_\_ часа

7 мин. = \_\_\_\_\_ сек.

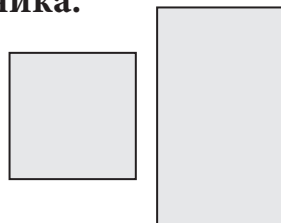
4 века = \_\_\_\_\_ години

10. Ширината на правоъгълник е равна на страната на квадрат с обиколка 16 см. Дължината му е най-голямото четно едноцифрено число.

Намери обиколката на правоъгълника.

---

---



11. Свържи всяко от животните с движението, което извършва.



лети

плува

пълзи

ходи, скача

12. Гери подарила на баба си 36 кокичета, които били с 9 повече от минзухарите. Поставила ги в три вази поравно. По колко цветя имало във всяка ваза?

- а) 11;                    б) 21;                    в) 15.

13. В една кутия има 8 червени и 5 сини еднакви топчета. Колко топчета най-малко трябва да вземеш, без да гледаш, за да си сигурен, че си взел 3 сини топчета?

- а) 5 топчета;                    б) 11 топчета;                    в) 13 топчета.

14. Свържи със стрелка обекта с неговото описание.

*Единствената плавателна река у нас.  
Служи за северна граница на България.*

**МАРИЦА**

*Най-дългата река в България. Извира  
от Рила и пресича Стара планина.  
Влива се в р. Дунав.*

**ДУНАВ**

*Най-пълноводната река у нас. Извира  
от Рила и тече през Горнотракийската  
низина.*

**ИСКЪР**

15. Свържи събитията със съответната година,  
през която са се случили.

Покръстване на българския народ.                    886 г.

Създаване на Българската държава.                    865 г.

Посрещнати у нас са учениците  
на Кирил и Методий.                    681 г.