



Национално финално състезание

III клас

Училище: клас:

Име, презиме, фамилия:

1. Номерирай отделните изречения така, че да образуват текст.

моля те, недей ме връща.
Дай да видя твоята къща.


Кой на портичката чука?
Махай се, момче, оттука!

Чук – чук! Де ли се е скрила?
Хей, пчелице лекокрила,

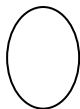
1




2. Зайко празнувал Великден. Той събирал само яйцата с прилагателни имена, които се пишат с двойно -НН-.
Оцвети ги.



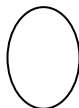

пролетен



телефонен



умен



странен



смешен



постоянен

3. Напиши подходяща сродна дума, образувана от глагола *гледам*, в изреченията.

Илиян _____ детска енциклопедия.

Майката _____ спящото бебе.

Евгени _____ рибки.

Кирчо се _____ в джипа.

4. Открий кой герой ни описва ваш съученик. Огради верния отговор.

„Той е бил на Луната и в подземното царство. За приятел има дяволче и глинено човече. От пакостник и мързеливец се превръща в послушно и работливо момче.”

- а) Карлсон;
- б) Ян Бибиян;
- в) Емил от Лъонеберя.



5. Колко сорта ябълки се отглеждат в България ще узнаеш, ако намериш частното на числата 104 и 4. Огради верния отговор.

- а) 26;
- б) 416;
- в) 100.



6. Реши числените изрази:

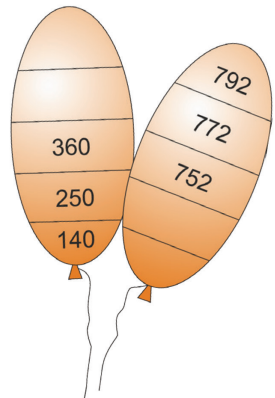
$$67 \cdot 8 + 721 : 7 =$$
$$= \underline{\hspace{2cm}} =$$
$$= \underline{\hspace{2cm}}$$

$$123 \cdot 4 - 385 : 7 =$$
$$= \underline{\hspace{2cm}} =$$
$$= \underline{\hspace{2cm}}$$

7. Митко, Стоян и Павел тежат заедно 111 кг. Стоян и Павел тежат 75 кг, а Митко и Стоян – 63 кг. По колко килограма тежи всяко от момчетата? Запиши.


- Митко - _____ кг
- Стоян - _____ кг
- Павел - _____ кг

8. Помогни на Асен да попълни в редиците по 2 липсващи числа върху балоните.



9. Кой сетивен орган можем да открием на географските карти? Запиши.

10. Разгледай схемата на кръговрата на водата в природата. В таблицата са записани 4 части от този процес. Номерирай с цифри последователността им на схемата и в таблицата.



1	Водата се изпарява от морето и водните пари се издигат във въздуха.
	Образуват се облаци.
	Водата се влива в морето.
	Водата пада на земята като дъжд.

11. Кой български революционер е описан в следния текст?

„С четата си преминал Дунава. Загинал в сражение за свободата на България. Написал прекрасни стихове. Роден е в град Калофер.”

Огради верния отговор.

- а) Васил Левски;
- б) Георги Раковски;
- в) Христо Ботев.



12. Свържи, за да е вярно.

Най-дългата планина в България.

Рила

Река, която извира от Рила
и пресича Стара планина.

Дунав

Най-високата планина в България.

Стара планина

Река, на която е разположен град Русе.

Искър

13. Напиши само основните посоки, отбелязани на картата?



14. Къде е най-опасно и къде сме най-защитени при гръмотевична буря? Огради с червено опасните и със зелено безопасните места.

1. По върхове и високи места.
2. В близост до антена или електрически стълб.
3. В сграда със затворени прозорци и врати.
4. До метални огради или други метални съоръжения.
5. В автомобил.
6. Около или във воден басейн.
7. Под единични дървета.

